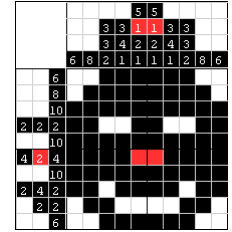




Ko sem pregledoval družinski album, sem na fotografiji zagledal hčer mamine mame in njeno sestro. Kdo je na sliki?



LETALO STRMOGLAVI TOČNO NA MEJI MED ZDA IN KANADO. V KATERI DRŽAVI BODO POKOPALI PREŽIVELE?

LOGIKA I in II




KATERA GORA JE BILA NAJVIŠJA PRED ODKRITJEM MOUNT EVEREST-A?

IZBOLJŠA POSTOPKE MATEMATIČNEGA MIŠLJENJA IN REŠEVANJA PROBLEMOV, ZATO POSLEDIČNO PRIPOMORE TUDI K VIŠJEMU MATEMATIČNEMU ZNANJU

LOGIKA I KOT IZBIRNI PREDMET




- namenjena učencem 7., 8. in 9. razreda
- učenec se lahko vključi **za eno leto ali več**, po eno uro na teden
- uči razlikovati argumentirano utemeljevanja od slabega pojasnjevanja



LOGIKA II KOT NADALJEVANJE LOGIKE I

- namenjena učencem 9. razreda, ki so v šol. letu 2019/20 obiskovali IP LOGIKA I



NAČIN DELA

- **LOGIČNE UGANKE**, **SVET TARSKEGA**, **SUDOKU**, **REŠEVANJE GOBELINOV ...**

POLŽ POTREBUJE URO IN POL, DA PRELEZE KROG V SMERI URINEGA KAZALCA; KO LEZE V NASPROTNI SMERI PA POTREBUJE ZA ISTI KROG LE 90 MINUT. OD KOD TA RAZLIKA?

